

Spektrální charakteristiky optických komponentů

Úvod

V laboratorní praxi často řešíme otázku, jak v experimentu použitý optický prvek ovlivní frekvenční spektrum dopadajícího optického záření. K tomu potřebujeme znát transmisní spektrum optického prvku či vzorku. Jednou z možností, jak zjistit spektrální charakteristiky optických prvků, je měření spektrofotometrem.

Spektrofotometr je přístroj k měření spekter optického záření a zaznamenávající poměr intenzity záření absorbovaného měřeným vzorkem k intenzitě referenčního (etalonového) záření v závislosti na vlnové délce záření dopadajícího na vzorek. Takto lze stanovit relativní intenzity jednotlivých spektrálních čar (obvykle je záznam v měřítku 0 až 100 %). Každý spektrofotometr se skládá v podstatě z fotometru a monochromátoru. Jako zdroje záření slouží elektrická žárovka s wolframovým vláknem (viditelná oblast), vodíková výbojka (ultrafialová oblast) a Nernstova tyčinka nebo různé zářiče (infračervená oblast). Obvykle polychromatické záření zdroje se hranolem nebo mřížkou monochromátoru rozloží na spektrální složky, z nichž se pak záření žádoucí vlnové délky izoluje štěrbinou. Šířka štěrbinu určuje spektrální čistotu záření. Neabsorbované záření se měří fotoelektrickými články, fotonásobiči (ultrafialová a viditelná oblast) a bolometry, termočlánky (infračervená oblast). Současné spektrofotometry jsou registrační, tzn. v několika minutách automaticky proměří a zobrazí celé absorpční spektrum.

V této úloze se seznámíte s měřením spektrálních charakteristik vybraných optických prvků moderním, komerčním spektrofotometrem **Shimadzu, typ UV-3600** (Obr.1). Tento spektrofotometr umožňuje měřit absorpční spektra jednotlivých vzorků v UV, viditelné a blízké infračervené spektrální oblasti (185 - 3300 nm).

Základní parametry spektrofotometru Shimadzu UV-3600

Rozsah: 185 – 3300 nm

Štěrbina: 0.1 - 8 nm

Přesnost: $\pm 0,2$ nm (UV/viditelná oblast), $\pm 0,8$ nm (blízká infračervená oblast)

Rychlost měření: 4000 nm/min (PbS) – 9000 nm/min (InGaAs)

Výměna lamp: 282 – 393 nm (volitelná)

Fotometr. systém: dvoupaprskový

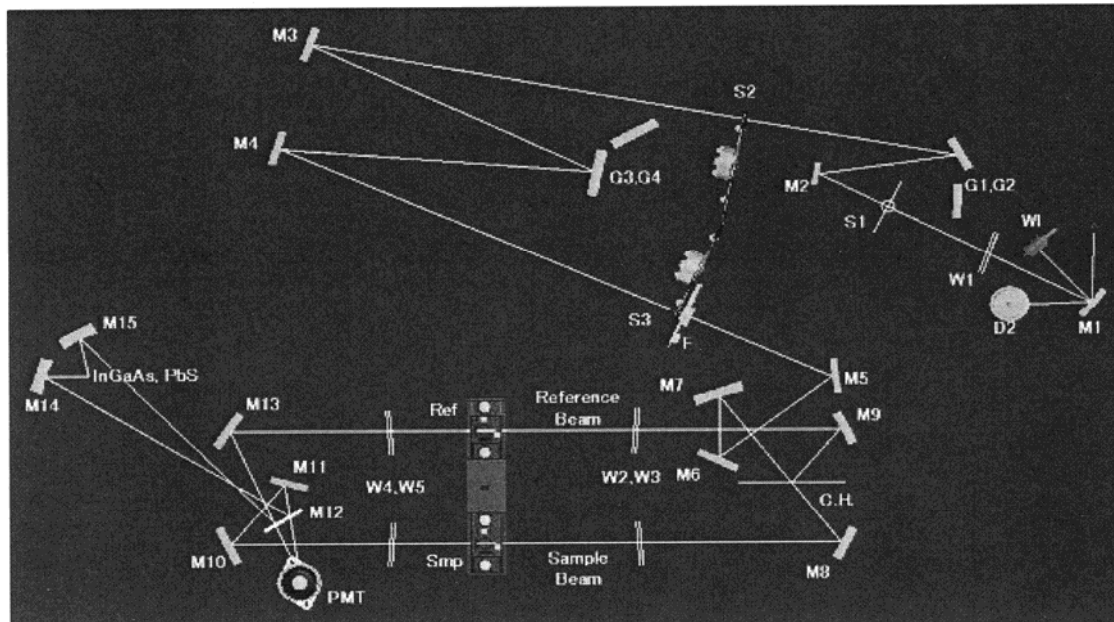
Fotometr. rozsah: -6 až 6 absorbančních jednotek

Zdroj světla: 50 W halogenová lampa, deuteriová lampa

Monochromátor: dvojitý monochromátor se dvěma difrakčními mřížkami

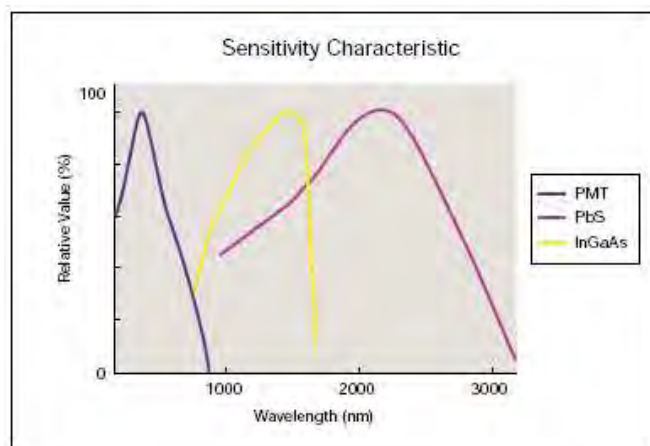
Detektor: UV/viditelná oblast – fotonásobič (R928), blízká infračervená oblast –
InGaAs fotodioda/chlazený PbS fotodetektor (Obr.2).

Pozn.: Podrobnější informace je možné nalézt v anglickém manuálu, který je uložen u přístroje



D2	Deuterium Lamp	W1	Halogen Lamp
S1	Entrance Slit	M1~M20	Mirrors
S2	Intermediate Slit	PbS	PbS Cell
S3	Exit Slit	InGaAs	InGaAs Photo-diode
F	Filter	PMT	Photomultiplier Tube
G1,G2	Diffraction Grating (first spectrometer)	Reference Beam	Beam on Reference Side
G3,G4	Diffraction Grating (second spectrometer)	Sample Beam	Beam on Sample Side
C.H.	Chopper mirror	W1~3	Windows ($\phi 30$ mm)
		W4~5	Windows ($\phi 40$ mm)

Obr. 1: Schéma vnitřní konfigurace spektrofotometru Shimadzu UV-3600



	165nm	380nm	780nm	3300nm
	UV		Visible	NIR
PMT	165• 4000nm			
InGaAs			700• 4800nm	
PbS				1600• 8300nm

Obr. 2: Spektrální citlivost jednotlivých fotodetektorů spektrofotometru **UV-3600** (nahore) a oblasti použitelnosti těchto detektorů při měření spektrofotometrem


Úkoly a postup

Cíl:

- Získat praktické zkušenosti s měřením spektrofotometrem
- Změřit spektrální charakteristiky předložených vzorků optických elementů
- Zamyslet se nad vlastnostmi těchto vzorků, uvědomit si rozdíl mezi krystalem a zrcadlem. Na základě úvahy správně určit a zdůvodnit o jaký prvek se jedná.

Příprava spektrofotometru k měření

- Zapněte počítač, ke kterému je spektrofotometr připojen.
- Po startu systému zapněte zeleným tlačítkem **POWER** na boku přístroje spektrofotometr.
- Na počítači spusťte poklepnáním na ikonu program **UVProbe**. Objeví se pracovní plocha včetně okna, kde se vykreslují změřená spektra (Obr.3).
- Navažte spojení se spektrofotometrem stisknutím tlačítka **Connect** ve spodní části okna. Vyčkejte několik minut, než proběhne test jednotlivých subsystémů přístroje. Po správném proběhnutí testu musí u všech položek svítit signál **passed**. Vše nakonec potvrďte stisknutím tlačítka **OK**.



Obr. 3: Hlavní okno měřicího programu UV Probe

5. Otevřete horní dvířka spektrofotometru a zkontrolujte, zda v přístroji není umístěn žádný vzorek. Provedte kalibraci nuly pomocí tlačítka **Baseline** v dolní části okna. Během kalibrace dojde k zaznamenání stavu intenzit jednotlivých svazků spektrofotometru pro jednotlivé vlnové délky tak, aby po kalibraci byla bez vloženého vzorku zaznamenána transmittance 100 %. Z důvodů tepelného driftu, stárnutí součástí a změny podmínek v laboratoři je nutné provádět tuto kalibraci po každém zapnutí přístroje. V případě, že umístíte do spektrofotometru jakýkoliv prvek, např. držák vzorku, který by mohl částečně zakrývat nebo jinak ovlivňovat optické svazky spektrofotometru, je třeba po vložení tohoto prvku opět provést kalibraci nuly.

6. V menu programu **Edit** zvolte položku **Method**. V záložce **Measurement**, nastavte měření v intervalu vlnových délek (**wavelength range**) 185 – 1600 nm. **Measuring Mode**

v záložce *Instrument Parameters* nastavte na *Transmittance*. Ostatní položky ponechte bez změny! Vše potvrďte stisknutím **OK**.

Pozn. Spektrofotometr vždy zapínejte pouze v přítomnosti dozoru praktika!

Postup měření

1. Otevřete horní dvířka přístroje a vložte vzorek do spektrofotometru tak, aby svazek procházel středem vzorku (viz Obr.4). Plocha měřicího svazku je 2 mm x 17 mm. V případě vzorků menších než je plocha měřicího svazku, neodpovídají absolutní hodnoty údajů uváděných na obrazovce skutečnosti!

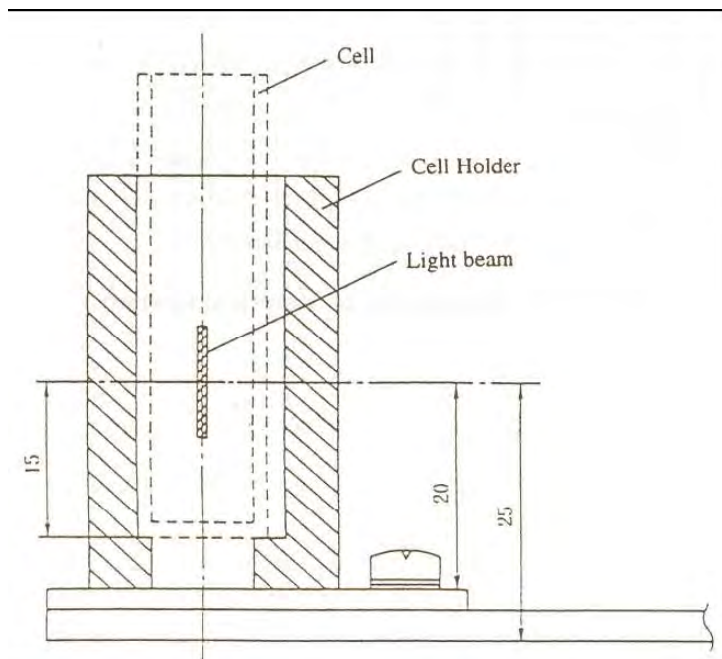
2. Zavřete dvířka a spusťte měření tlačítkem *Start* ve spodní části okna. Během měření musí být dvířka přístroje zavřená!

3. Po ukončení měření se zobrazí dialog *NewDataSet*. Pokud nechcete měření uložit, stiskněte *Cancel*. V opačném případě vyplňte název měření (*Data Storage*) a cílovou složku (*File*). Pro dočasné uložení svých souborů si ve složce *C:\Program Files\Shimadzu\UVProbe\Data\PLT\rok/* vytvořte složku *Skupina XY*, kde *XY* je číslo vaší skupiny. Pouze do ní ukládejte veškerá svá data!

Pozor! Po potvrzení dialogu dojde k uložení dat pouze do paměti, nikoli na disk. Pro uložení na disk zvolte v menu *File* položku *Save As*. Zde zkontrolujte, zda ukládáte data do své složky a zvolte jméno a formát exportovaného souboru. Data exportujte ve formátu **ASCII** (data print table.txt), abyste byli schopni data do protokolu zpracovat na svém počítači. Po ukončení měření se doporučuje zkontrolovat uložené soubory, zda skutečně obsahují požadovaná data, která si následně zkopírujete na flash disk či jiné přenosné medium.

4. Vyměňte vzorek ve spektrofotometru a měření dle uvedeného postupu opakujte pro vzorky s označením A až I. Při manipulaci se vzorky dbejte, abyste nesahali na optické plochy. V případě, že byste pozorovali zašpinění optické plochy, proveďte očištění vhodným způsobem (čistidlo IPA + jemný „čočkový“ papír). Pokud mají vzorky dielektrickou vrstvu (označena šipkou), umísťujte je touto vrstvou proti směru chodu svazku.

5. Proveďte novou kalibraci spektrofotometru s využitím mezikroužku o vnitřním průměru 12 mm, aby bylo možné správně měřit transmissi menších vzorků. Následně proveďte měření vzorků krystalů Nd:YVO₄, Er:sklo a Cr:YAG.



Obr. 4: Umístění měřícího svazku v měřící cele spektrofotometru (uváděné hodnoty jsou v mm)

Požadované výsledky

1. Proměřte charakteristiky předložených vzorků a naměřené charakteristiky pomocí vhodného software zpracujte.

2. Analýzou získaných výsledků správně přiřaďte změřené charakteristiky následujícím vzorkům a zdůvodněte:

- 1 - dielektrický úzkopásmový filtr pro rubínový laser
- 2 - filtr RG7 (horní propust 700 nm)
- 3 - ochranné brýlové sklo pro práci s Nd:YAG laserem
- 4 - rubínový krystal
- 5 - zrcadlo pro Nd:YAG laser

- 6 - zrcadlo pro rubínový laser
- 7 – infračervený filtr (horní propust 600 nm)
- 8 – křemíková destička
- 9 – sklo z černých brýlí

3. Z naměřených charakteristik pro:

a) Dielektrický úzkopásmový filtr pro rubínový laser

- Změřte šířku transmisního pásu $\Delta\lambda$ pro rubínový laser.
- Zjistěte vlnovou délku pro maximální hodnotu transmitance λ_{max} pro rubínový laser.

b) Filtr RG7

- Zjistěte vlnovou délku $\lambda_{1/2}$, pro kterou je transmitance rovna $T = 0,5$.
- Změřte si tloušťku filtru.
- Spočítejte interní transmitanci τ_i na vlnové délce $\lambda = 1,06 \mu\text{m}$.

c) Rubínový krystal

- Určete polohu všech maxim absorpce λ_{max} a šířky jednotlivých absorpčních pásů $\Delta\lambda$.
- Spočítejte koeficienty interní absorpce α (při výpočtu nejprve odečtěte Fresnelovské ztráty na čelech krystalu, které jsou dány indexem lomu materiálu).
- Rozhodněte, zda se jedná o 3- nebo 4- hladinový energetický systém.
- Zdůvodněte lokální absorpční maximum na vlnové délce 694 nm.

d) Zrcadlo pro Nd:YAG laser

- Odhadněte jeho použitelnost jako HR (high reflectivity) zrcadla, tzn. oblasti $\Delta\lambda$, kde je $R > 98\%$.
- Stanovte a zdůvodněte, zda je vhodné jako HR zrcadlo pro buzení laserovou diódou na vlnové délce $\lambda = 808 \text{ nm}$.

e) Zrcadlo pro rubínový laser

- Odhadněte jeho použitelnost jako HR zrcadla, tzn. oblasti $\Delta\lambda$, kde je $R > 98\%$.

f) Laserový krystal Nd:YVO₄

- Určete polohu významných maxim absorpce v rozsahu 800 až 900 nm. Které z těchto maxim jsou využívány pro čerpání tohoto aktivního materiálu prostřednictvím laserových diod?
- Odhadněte, jakou šířku generované spektrální čáry by měla mít laserová dioda, kterou by bylo vhodné využít pro čerpání tohoto aktivního prostředí.
- Uveďte významné vlnové délky záření, které jsou generovány lasery s tímto typem aktivního prostředí. Pozorujete pokles transmise na těchto vlnových délkách a proč?
- Rozhodněte, zda se jedná o 3- nebo 4- hladinový energetický systém.

g) Laserový krystal Er:sklo

- Určete polohu významných maxim absorpce v rozsahu 800 až 1000 nm. Které z těchto maxim jsou využívány pro čerpání tohoto aktivního materiálu prostřednictvím laserových diod?
- Odhadněte, jakou šířku generované spektrální čáry by měla mít laserová dioda, kterou by bylo vhodné využít pro čerpání tohoto aktivního prostředí.
- Uveďte významné vlnové délky záření, které jsou generovány lasery s tímto typem aktivního prostředí. Pozorujete pokles transmise na těchto vlnových délkách a proč?
- Rozhodněte, zda se jedná o 3- nebo 4- hladinový energetický systém.

h) Krystal Cr:YAG

- Určete využití tohoto krystalu v laserové technice.
- Změřte tloušťku vzorku a spočítejte interní absorpční koeficient na vlnové délce $\lambda = 1,06 \mu\text{m}$. Při výpočtu nejprve odečtete Fresnelovské ztráty na čelech krystalu.

4. Vysvětlete, proč při měření vzorků menších, než je plocha měřícího svazku, by naměřená charakteristika neodpovídala skutečnosti.