

60 segundos = un minuto

60 minutos = una hora

24 horas = un día

7 días = una semana

28, 29, 30 ó 31 días = un mes

tres meses = un trimestre

6 meses = un semestre

12 meses = un año

5 años = un lustro

10 años = una década

100 años = un siglo

1000 años = un milenio

LA SEMANA

días laborables

fin de semana

lunes martes miércoles jueves viernes

sábado domingo

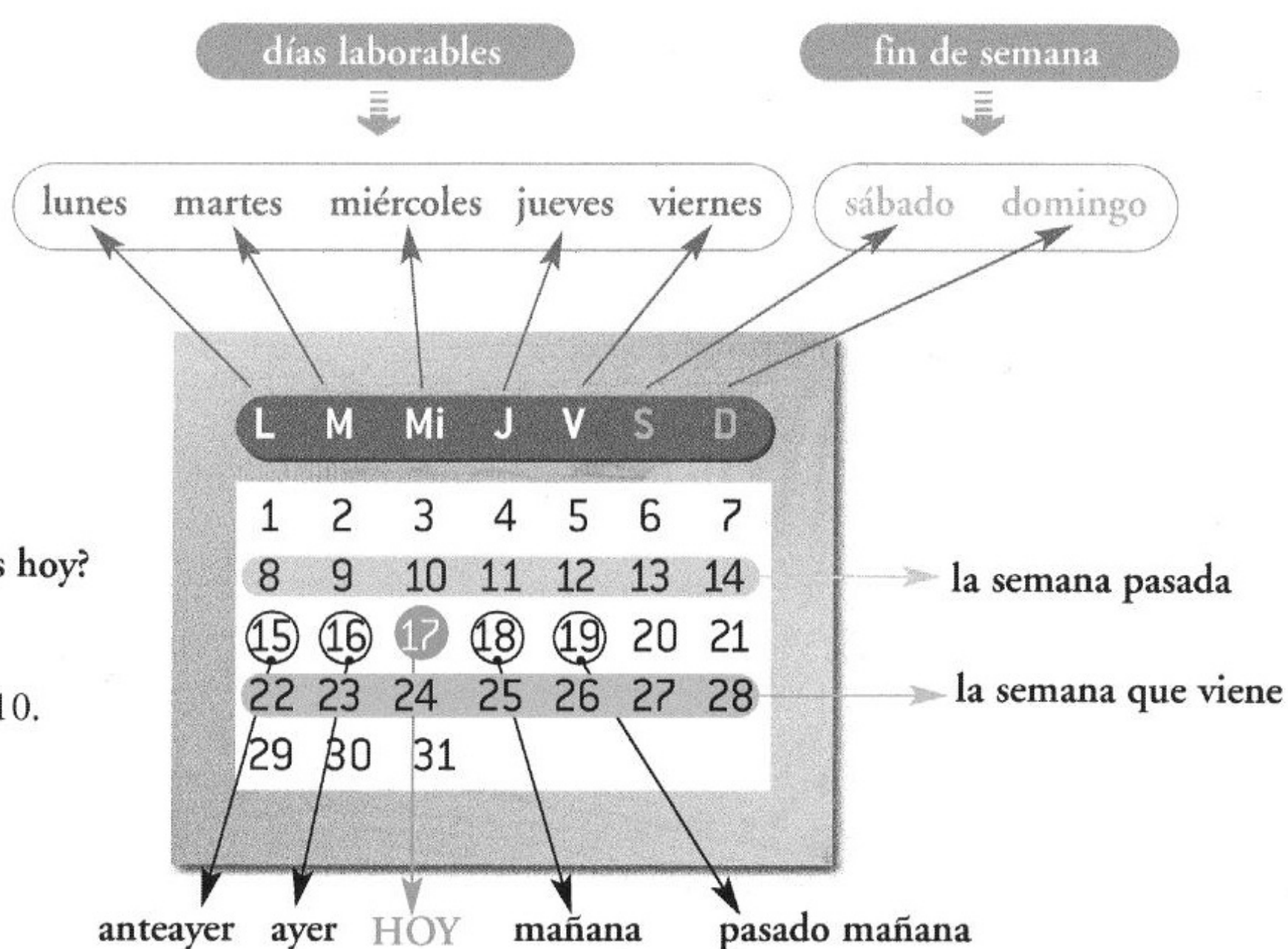
-¿A qué estamos hoy?

-A 17 de marzo.


-¿Qué día de la semana es hoy?

-Es miércoles.

Fecha: 17 de marzo de 2010.



LOS MESES Y LAS ESTACIONES DEL AÑO



la primavera



el verano



el otoño



el invierno

enero – febrero – marzo – abril – mayo – junio
julio – agosto – septiembre – octubre – noviembre – diciembre

1. Ordene de menor a mayor duración.

minuto / hora / siglo / mes / milenio / segundo / década / semana / día / año

- | | |
|-------------------|-----------|
| 1. <i>segundo</i> | 6. _____ |
| 2. _____ | 7. _____ |
| 3. _____ | 8. _____ |
| 4. _____ | 9. _____ |
| 5. _____ | 10. _____ |

2. ¿En qué estación del año estamos en España...

- | | |
|------------------------------|-------------------------------|
| 1. el 15 de mayo? _____ | 7. el 7 de abril? _____ |
| 2. el 24 de noviembre? _____ | 8. el 21 de octubre? _____ |
| 3. el 8 de septiembre? _____ | 9. el 11 de febrero? _____ |
| 4. el 2 de enero? _____ | 10. el 16 de julio? _____ |
| 5. el 19 de marzo? _____ | 11. el 31 de diciembre? _____ |
| 6. el 30 de junio? _____ | 12. el 13 de agosto? _____ |

3. Mire el siguiente calendario y asocie.

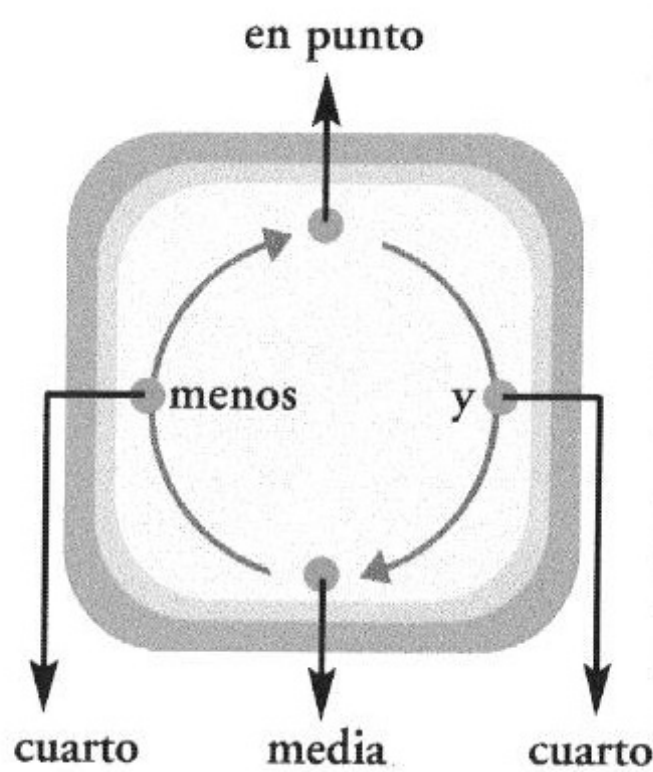

Hoy estamos a 16 de abril.

	L	M	Mi	J	V	S	D
			1	2	3	4	5
	6	7	8	9	10	11	12
	13	14	15	16	17	18	19
	20	21	22	23	24	25	26
	27	28	29	30			

1. el día 15
2. del 20 al 26
3. el día 18
4. el día 14
5. los días 11 y 12
6. del 6 al 12
7. el día 17
8. los días 18 y 19
9. el día 16

- a) hoy
- b) la semana pasada
- c) este fin de semana
- d) mañana
- e) anteayer
- f) la semana que viene
- g) pasado mañana
- h) el fin de semana pasado
- i) ayer

LA HORA



	a las tres pasadas	b las tres y cinco pasadas
15.00 h.	(las) tres (en punto)	(las) quince
15.01 h.	(las) tres y un minuto	(las) quince uno
15.02 h.	(las) tres y dos minutos	(las) quince dos
15.03 h.	(las) tres y tres minutos	(las) quince tres
15.04 h.	(las) tres y cuatro minutos	(las) quince cuatro
15.05 h.	(las) tres y cinco	(las) quince cinco
15.06 h.	(las) tres y seis minutos	(las) quince seis
15.07 h.	(las) tres y siete minutos	(las) quince siete
15.08 h.	(las) tres y ocho minutos	(las) quince ocho
15.09 h.	(las) tres y nueve minutos	(las) quince nueve
15.10 h.	(las) tres y diez	(las) quince diez
15.15 h.	(las) tres y cuarto	(las) quince quince
15.20 h.	(las) tres y veinte	(las) quince veinte
15.25 h.	(las) tres y veinticinco	(las) quince veinticinco
15.30 h.	(las) tres y media	(las) quince treinta
15.35 h.	(las) cuatro menos veinticinco	(las) quince treinta y cinco
15.40 h.	(las) cuatro menos veinte	(las) quince cuarenta
15.45 h.	(las) cuatro menos cuarto	(las) quince cuarenta y cinco
15.50 h.	(las) cuatro menos diez	(las) quince cincuenta
15.55 h.	(las) cuatro menos cinco	(las) quince cincuenta y cinco

-¿Qué hora es?

-Es la una y veinticinco (01:25).

-¿Tiene hora?

-Sí, las cinco y cuarto pasadas (17:17).

-¿A qué hora sale el vuelo de Iberia 538?

-A las dieciséis treinta y cinco (16:35).

-¿A qué hora has quedado con Felipe?

-A las nueve y media.

-¿De la mañana?

-¡No, hombre!, de la noche.

-¿Qué horario tienen los bancos?

-De nueve a dos y algunos de tres a cinco también.

-¿A qué hora abre la tienda?

A las nueve. Está abierta de nueve a dos y de cinco a ocho y media.

LA DURACIÓN

15 minutos = un cuarto de hora
 30 minutos = media hora
 45 minutos = tres cuartos de hora

1 hora 15 minutos = una hora y cuarto
 1 hora 30 minutos = una hora y media
 1 hora 45 minutos = una hora y tres cuartos

-¿Cuánto dura la clase?

-Una hora y tres cuartos, de cuatro a seis menos cuarto (16:00-15:45).


-¿Cuánto tardas en llegar al trabajo?

-Una media hora si no hay mucho tráfico.


1. ¿Qué hora es? Asocie el reloj con la hora que marca.




1




7




2



8




3



9



4




10




5



11



6



12

- a) las cinco treinta y seis
- b) la una treinta y ocho
- c) las diez cinco
- d) las diez y cinco
- e) las dos menos veinticinco pasadas
- f) las seis menos veinte
- g) las doce quince
- h) las once y cuarto pasadas
- i) las seis menos veinticinco pasadas
- j) las doce y cuarto
- k) las veintitrés diecisiete
- l) las diecisiete cuarenta

2. Elija la respuesta correcta de las opciones que aparecen a continuación.

a las cinco y media.
las cinco y media.
sí, las cinco y media.

a las diecisiete treinta.
de cinco y media a ocho y media.
cinco horas y media.

1. ¿Qué horario de tarde tiene esa tienda?

2. ¿Qué hora es?

3. ¿A qué hora llega el tren?

4. ¿Cuánto dura el vuelo?

5. ¿A qué hora llegará Alberto?

6. ¿Tiene hora?
